

इलाहाबाद हाईकोर्ट

समीक्षा अधिकारी/सहायक समीक्षा अधिकारी/कम्प्यूटर असिस्टेंट/ अपर निजी सचिव (RO/ARO/CA/APS) प्रैक्टिस बुक

प्रधान सम्पादक

आनन्द कुमार महाजन

संपादन एवं संकलन


परीक्षा विशेषज्ञ समिति

कम्प्यूटर ग्राफिक्स

बालकृष्ण, पंकज कुशवाहा

सम्पादकीय कार्यालय

12, चर्च लेन, प्रयागराज-211002

 9415650134

Email : yctap12@gmail.com

website : www.yctbooks.com/www.yctfastbooks.com/www.yctbooksprime.com

© All rights reserved with Publisher



yct books official

प्रकाशन घोषणा

प्रधान सम्पादक एवं प्रकाशक आनन्द कुमार महाजन ने Printed by Digital से मुद्रित करवाकर,
वाई.सी.टी. पब्लिकेशन्स प्रा. लि., 12, चर्च लेन, प्रयागराज-211002 के लिए प्रकाशित किया।
इस पुस्तक को प्रकाशित करने में सम्पादक एवं प्रकाशक द्वारा पूर्ण सावधानी बरती गई है

फिर भी किसी त्रुटि के लिए सम्पादक एवं प्रकाशक जिम्मेदार नहीं होगा।

किसी भी विवाद की स्थिति में न्यायिक क्षेत्र प्रयागराज होगा।

मूल्य : 695/-

INDEX

PRACTICE SET

■ प्रैक्टिस सेट-1 -----	3-20
प्रैक्टिस सेट-1 का व्याख्या सहित हल -----	21-34
■ प्रैक्टिस सेट-2 -----	35-52
प्रैक्टिस सेट-2 का व्याख्या सहित हल -----	53-67
■ प्रैक्टिस सेट-3 -----	68-85
प्रैक्टिस सेट-3 का व्याख्या सहित हल -----	86-99
■ प्रैक्टिस सेट-4 -----	100-117
प्रैक्टिस सेट-4 का व्याख्या सहित हल -----	118-131
■ प्रैक्टिस सेट-5 -----	132-150
प्रैक्टिस सेट-5 का व्याख्या सहित हल -----	151-164
■ प्रैक्टिस सेट-6 -----	165-182
प्रैक्टिस सेट-6 का व्याख्या सहित हल -----	183-198
■ प्रैक्टिस सेट-7 -----	199-216
प्रैक्टिस सेट-7 का व्याख्या सहित हल -----	217-232
■ प्रैक्टिस सेट-8 -----	233-250
प्रैक्टिस सेट-8 का व्याख्या सहित हल -----	251-266
■ प्रैक्टिस सेट-9 -----	267-286
प्रैक्टिस सेट-9 का व्याख्या सहित हल -----	287-302
■ प्रैक्टिस सेट-10 -----	303-321
प्रैक्टिस सेट-10 का व्याख्या सहित हल -----	322-336

PRACTICE SET - 1

- Mahabhashya is the book of which subject?**
महाभाष्य किस विषय की पुस्तक है?
(a) Philosophy/दर्शन-शास्त्र
(b) Poem/काव्य
(c) Grammar/व्याकरण
(d) Astronomy/खगोल-शास्त्र
- Which among the following sites provides evidence of domestication of animals in the Mesolithic period? / निम्नलिखित में से किन स्थानों में मध्यपाषाण काल में पशुपालन के प्रमाण मिलते हैं?**
(a) Odai/औदे (b) Bori/बोरी
(c) Bagor/बागौर (d) Lakhnia/लखनियाँ
- The main source of knowledge about Harappan civilization is:**
हड़प्पा संस्कृति की जानकारी का प्रमुख स्रोत है—
(a) Rock Inscription/शिला लेख
(b) Inscriptions on terracotta seals
पक्की मिट्टी की मुहरों पर अंकित लेख
(c) Archeological Excavations/पुरातात्विक खुदाई
(d) All of the above/उपरोक्त सभी
- The people of Indus valley worshiped—**
सिन्धु घाटी के लोग पूजा करते थे -
(a) Pashupati/पशुपति की
(b) Indra and Varun/इन्द्र और वरुण की
(c) Brahma/ब्रह्मा की
(d) Vishnu/विष्णु की
- About which of the following deity there is mention in Rig-Veda that his chariot was pulled by Billy goat?**
ऋग्वेद में निम्नलिखित देवताओं में से किसके लिए वर्णन है कि उसका रथ बकरे खींचते थे?
(a) Pushan/पूषन् (b) Rudra/रुद्र
(c) Varun/वरुण (d) Yam/यम
- The sages associated with Videh Madhava mentioned in the Shatapatha Brahmin was—**
शतपथ ब्राह्मण में उल्लिखित राजा विदेह माधव से सम्बन्धित ऋषि थे—
(a) Rishi Bhardwaj/ऋषि भारद्वाज
(b) Rishi Vashishtha/ऋषि वशिष्ठ
(c) Rishi Vishvamitra/ऋषि विश्वामित्र
(d) Rishi Goutam rahugana/ऋषि गौतम राहुगण
- Which one of the following is the distinctive features between a nastika and astika section in India? / भारत में आस्तिक तथा नास्तिक संप्रदायों में कौन सा विभेदक लक्षण है?**
(a) Belief in the existence of God/ईश्वरी सत्ता में आस्था
(b) Belief in the doctrine of re-birth
पुनर्जन्म के सिद्धान्त में आस्था
(c) Belief in the authenticity of the Vedas
वेदों की प्रामाणिकता में आस्था
(d) Belief in the existence of heaven and hell
स्वर्ग तथा नरक की सत्ता में विश्वास
- Consider the following statements relating to Jain literature:**
जैन साहित्य के बारे में निम्नलिखित कथनों पर विचार कीजिए:
1. The sacred books of the Jainas are known as Siddhanta or Agama/जैनों के पवित्र ग्रंथ सिद्धान्त या आगम के रूप में जाने जाते हैं।
2. The language of the earliest Jain texts is eastern dialect of Pali known as Ardha Magadhi/आद्यतन जैन ग्रंथों की भाषा पालि की एक पूर्वी बोली है जिसे अर्धमागधी कहते हैं।
Which of the statements given above is/are correct?
उपर्युक्त कथनों में से कौन-सा/से सही है/हैं?
(a) 1 only/केवल 1
(b) 2 only/केवल 2
(c) Both 1 and 2/1 और 2 दोनों
(d) Neither 1 nor 2/न तो 1 और न ही 2
- Buddhism was reaction against which of the following in 6th century BC./छठी शताब्दी ई.पू. में बौद्ध धर्म निम्न में किसके विरुद्ध प्रतिक्रिया थी?**
(a) Hinduism/ हिन्दू धर्म
(b) Veda/ वेद
(c) Brahmanic rituals ब्राह्मणवादी रीति-रिवाज
(d) Widely practiced non-vegetarian diet
व्यापक रूप से प्रचलित मांस सेवन की प्रथा
- Which of the following Buddhist sect propagated this religion outside India at first?**
निम्न में कौन एक बौद्ध शाखा इस धर्म का प्रचार भारतीय सीमा से बाहर करने के लिये प्राथमिक रूप से उत्तरदायी था?
(a) Vajrayana/ व्रजयान (b) Kapalika/ कापालिक
(c) Mahayan/ महायान (d) Hinayana/ हीनयान
- In which one of the following there is mention about the story of acquiring Magadh Empire by Chandragupta Maurya?**
निम्नलिखित में से किस एक में चन्द्रगुप्त मौर्य द्वारा मगध का राजसिंहासन प्राप्त करने की कथा दी गई थी?
(a) Vrihatkatha/बृहत्कथा
(b) Gatha Saptashati/गाथा सप्तशती
(c) Mudra Rakshasa/मुद्राराक्षस
(d) Vasavadutta/वासवदत्ता
- Who among the following kings hold the title of Dharma maharaj? / निम्नलिखित राजाओं में से किसने 'धर्म-महाराज' की उपाधि धारण की थी?**
(a) Agnimitra/अग्निमित्र
(b) Pravarsen I/प्रवरसेन प्रथम
(c) Harsha/हर्ष
(d) Dharmapala/धर्मपाल
- Which of the following heirs of Aurangzeb had lowest tenure of governance?**
निम्नलिखित में से औरंगजेब के किस उत्तराधिकारी का शासन काल सबसे कम था?

- (a) Bahadur Shah /बहादुरशाह
(b) Jahandar Shah /जहाँदारशाह
(c) Mohammed Shah/मोहम्मदशाह
(d) Ahmed Shah/अहमदशाह
14. Which of the following ideas was/were shared by Raja Rammohan Roy and Rabindranath Tagore?
राजा राममोहन रॉय एवं रवीन्द्रनाथ टैगोर निम्नलिखित में से कौन-से विचार/विचारों के सहभागी थे?
(a) Internationalism / अन्तर्राष्ट्रीयता
(b) Opposition to idol worship / मूर्ति-पूजा का विरोध
(c) Faith in rational and scientific approach
तार्किक एवं वैज्ञानिक दृष्टिकोण में विश्वास रखा
(d) All the above / उपर्युक्त सभी
15. Who among the following was popularly known as 'Lokahitwadi'?
निम्नलिखित में से कौन 'लोकहितवादी' के रूप में लोकप्रिय थे?
(a) Gopal Hari Deshmukh/गोपाल हरि देशमुख
(b) Mahadev Govind Ranade/महादेव गोविन्द रानाडे
(c) Gopal krishna gokhale/गोपाल कृष्ण गोखले
(d) Jyotiba phule/ज्योतिबा फुले
16. Which of the following pair is NOT correctly matched?
निम्न युग्मों से कौन सा युग्म सुमेलित नहीं है?
(a) Hunter education Commission – 1882
हन्टर शिक्षा आयोग
(b) Indian Universities act – 1904
भारतीय विश्वविद्यालय अधिनियम
(c) Sargent Education Scheme – 1915
सार्जेंट शिक्षा योजना
(d) Hartog Committee/Hartog Committee – 1929
17. Identify the correct sequence of the following events of Indian history:
भारतीय इतिहास की निम्नलिखित घटनाओं का सही अनुक्रम पहचानिए:
1. Foundation of the Indian Muslim League/
इंडियन मुस्लिम लीग की स्थापना
2. Surat Split/सूरत विभाजन
3. Partition of Bengal/बंगाल विभाजन
4. Transfer of capital from Calcutta to Delhi/
राजधानी का कलकत्ता से दिल्ली स्थानांतरण
Select the correct answer using the code given below:
नीचे दिए गए कूट का प्रयोग कर सही उत्तर चुनिए:
(a) 1-2-3-4 (b) 2-3-4-1
(c) 3-1-2-4 (d) 4-3-1-2
18. Who firstly launched the Home Rule league Movement?
होमरूल लीग आन्दोलन सर्वप्रथम किसने प्रारम्भ किया—
(a) Annie Besant/ऐनी बेसेन्ट
(b) Sarojini Naidu/सरोजिनी नायडू
(c) Surendra Nath Banerjee/सुरेन्द्र नाथ बनर्जी
(d) Tilak/तिलक
19. After which incident, Mahatma Gandhi had called Non-Cooperation Movement as his 'Himalayan Blunder'?
किस घटना के बाद महात्मा गांधी ने असहयोग आन्दोलन को अपनी 'हिमालय जैसी भूल' बताई थी?
(a) Chauri-Chaura/चौरी-चौरा
(b) Kheda Satyagraha/खेड़ा सत्याग्रह
(c) Nagpur Satyagraha/नागपुर सत्याग्रह
(d) Rajkot Satyagraha/राजकोट सत्याग्रह
20. Which of the following was not related to the establishment of the Kisan Sabha established in February 1918?
निम्न में से कौन फरवरी 1918 में स्थापित यू.पी. किसान सभा की स्थापना से संबद्ध नहीं था?
(a) Indra Narayan Dwivedi/इन्द्र नारायण द्विवेदी
(b) Gourishankar Mishra/गौरीशंकर मिश्र
(c) Jawahar Lal Nehru/जवाहरलाल नेहरू
(d) Madan Mohan Malviya/मदनमोहन मालवीय
21. Which of the following Round Table Conference was held in 1932?
निम्नलिखित में से कौन सा गोलमेज सम्मेलन 1932 में हुआ था?
(a) First/पहला (b) Second/दूसरा
(c) Third/तीसरा (d) Fourth/चौथा
22. Which of the following the session congress declared its policy towards indian states for the first time?/निम्नलिखित में से किस अधिवेशन में कांग्रेस ने पहली बार भारतीय रियासतों के प्रति अपनी नीति घोषित की थी?
(a) Nagpur Session/नागपुर अधिवेशन में
(b) Gaya Session/गया अधिवेशन में
(c) Calcutta Session/कलकत्ता अधिवेशन में
(d) Lucknow Session/लखनऊ अधिवेशन में
23. Which of the following is not correct regarding cabinet mission plan?
कैबिनेट मिशन योजना के विषय में निम्नलिखित में से कौन-सा सही नहीं है?
(a) Provincial grouping/प्रान्तीय समूहीकरण
(b) Interim cabinet with Indian members/भारतीय सदस्यों वाला अंतरिम मंत्रिमण्डल
(c) Acceptance of Pakistan/पाकिस्तान की स्वीकृति
(d) Right to formation of constitution/संविधान निर्माण का अधिकार
24. Which Act provisioned competitive exam system for Civil Services?
सिविल सेवा के लिए प्रतिस्पर्धी परीक्षा की व्यवस्था सिद्धान्त रूप में निम्नांकित वर्ष में स्वीकार की गई थी-
(a) 1833 (b) 1853
(c) 1858 (d) 1882
25. Who among the following revolutionaries wrote an article 'An Introduction to the Dreamland'?
निम्नलिखित में से किस क्रांतिकारी ने 'एन इन्ट्रोडक्सन टू द ड्रीमलैण्ड' लेख लिखा था?
(a) Bhagwati Charan Vohra/भगवती चरण वोहरा
(b) Ram Prasad Bismil/राम प्रसाद बिस्मिल
(c) Bhagat Singh/भगत सिंह
(d) Batukeshwar Dutt/बटुकेश्वर दत्त

26. Which one of the following is a characteristic of Presidential form of Government?
निम्नलिखित में से कौन सी एक अध्यक्षतात्मक (प्रेसिडेन्शियल) स्वरूप की सरकार की विशेषता है?
- (a) President is not a part of legislative body/राष्ट्रपति विधायी निकाय का हिस्सा नहीं होता।
 - (b) It does not separate Legislative and Executive functions
यह विधायी और कार्यपालिका कृत्यों को पृथक नहीं करता।
 - (c) President follows the principle of collective responsibility
राष्ट्रपति सामूहिक उत्तरदायित्व के सिद्धांत का पालन करता है।
 - (d) The tenure of the President depends on the Legislature
राष्ट्रपति की पदावधि विधान-मंडल पर निर्भर करती है।
27. Article 21 of the Constitution of India includes भारत के संविधान के अनुच्छेद 21 के अंतर्गत है/हैं
1. Rights of transgenders/
विपरीत लिंगियों (ट्रांसजेंडर्स) के अधिकार-
 2. Rights of craniopagus twins/
क्रैनियोपैगस जुड़वाओं के अधिकार
 3. Rights of mentally retarded women to bear a child/
बच्चे को जन्म देने का मंदितमना महिलाओं के अधिकार
- Select the correct answer using the code given below.
नीचे दिए गए कूट का प्रयोग कर सही उत्तर चुनिए।
- (a) 1 only/केवल 1
 - (b) 1 and 2 only/केवल 1 और 2
 - (c) 2 and 3 only /केवल 2 और 3
 - (d) 1, 2 and 3/1, 2 और 3
28. Who among the following can participate in the business of the Lok Sabha even if he is the member of Rajya Sabha?
निम्नांकित में से कौन, राज्यसभा का सदस्य होते हुए भी लोकसभा की कार्यवाही में भाग ले सकते हैं?
- (a) Nominated member of the Rajya Sabha who is specialist in his field./राज्यसभा का मनोनीत (नामांकित) सदस्य जो अपने क्षेत्र का विशेषज्ञ हो
 - (b) Deputy Chairman of the Rajya Sabha
राज्यसभा का उपसभापति
 - (c) Minister, who is the member of Rajya Sabha
मंत्री, जो राज्यसभा का सदस्य हो
 - (d) Leader of the house in Rajya Sabha
राज्यसभा में सदन का नेता
29. The Sarkaria Commission made recommendations regarding the following: / सरकारिया आयोग ने निम्नलिखित के संबंध में संस्तुतियाँ की थीं –
- (a) Administrative reforms /प्रशासनिक सुधार
 - (b) Union-State relations /केन्द्र-राज्य संबंध
 - (c) Panchayats /पंचायतें
 - (d) Urban Governance /नगरीय शासन
30. The ultimate responsibility of taking due action on the comments of the Comptroller and Auditor General vests with / नियंत्रक एवं महालेखा परीक्षक की टीका टिप्पणी पर उचित कार्यवाही करने की अंतिम जिम्मेदारी है–
- (a) President of India /भारत के राष्ट्रपति की
 - (b) Supreme Court /सर्वोच्च न्यायालय की
 - (c) Parliament /संसद की
 - (d) National Development Council/राष्ट्रीय विकास परिषद् की
31. The organisation of 'Ombudsman' was primarily started-
'ओम्बुड्समैन' की संस्था सर्वप्रथम आरम्भ हुई–
- (a) in Germany in 1800 /1800 में जर्मनी में
 - (b) in Sweden in 1809 /1809 में स्वीडन में
 - (c) in England in 1874 / 1874 में इंग्लैण्ड में
 - (d) in India in 1950 /1950 में भारत में
32. Which one of the following Indian States has the longest coastline?/ निम्नलिखित भारतीय राज्यों में से किसकी सबसे लंबी तट रेखा है?
- (a) Tamil Nadu/तमिलनाडु
 - (b) Gujarat/गुजरात
 - (c) Maharashtra/महाराष्ट्र
 - (d) Andhra Pradesh/आंध्र प्रदेश
33. The three mountain ranges which determine the border between India and Myanmar are:
भारत और म्यांमार के बीच सीमा निर्धारित करने वाली तीन पर्वत श्रेणियाँ हैं–
- (a) Khasi, Patkai and Arakan-Yoma/
खासी, पटकाई और अराकान-योमा
 - (b) Akai mountain range/अकाई पर्वत शृंखला
 - (c) Great Dividing Range/ग्रेट डिवाइडिंग रेंज
 - (d) None of the above/उक्त कोई नहीं
34. The highest peak of Sahyadri is
सह्याद्री का उच्चस्थ शिखर है -
- (a) Kalsubai/कलसुबाई
 - (b) Kudremukh/कुद्रेमुख
 - (c) Anaimudi/अनाईमुडी
 - (d) Doda Betta/दोदाबेट्टा
35. Which one of the following coasts of India is located between Krishna delta and Cape Comorin?/भारत के निम्नलिखित तटों में से कौन कृष्णा डेल्टा एवं केप कमोरिन के मध्य स्थित है?
- (a) Coromandel Coast/कोरोमण्डल तट
 - (b) North Circar/उत्तरी सरकार
 - (c) Malabar Coast/मालाबार तट
 - (d) Konkan Coast/कोंकण तट
36. Which of the following is not correctly matched?
निम्नलिखित में से क्या सुमेलित नहीं है?
- (a) Shipkila/शिपकीला – Himachal Pradesh
/हिमाचल प्रदेश
 - (b) Lipulekh/ लिपुलेख – Uttar Pradesh/उत्तर प्रदेश
 - (c) Nathula/नाथुला – Sikkim/सिक्किम
 - (d) Zojila/जोजिला – Kashmir/कश्मीर

37. **The Indian subcontinent was originally part of a huge land mass called/भारतीय उपमहाद्वीप मूलतः एक विशाल भूखण्ड का भाग था जिसे कहते हैं –**
 (a) Jurassic Land Mass/जुरासिक भूखण्ड
 (b) Aryavarta/आर्यावर्त
 (c) Indiana/इंडियाना
 (d) Gondwana Continent/गोंडवाना महाद्वीप
38. **On which river is the Kalagarh dam built? कालागढ़ बाँध किस नदी पर बना हुआ है?**
 (a) Yamuna/यमुना पर
 (b) Sharda/शारदा पर
 (c) Ganga/गंगा पर
 (d) Ramganga/रामगंगा पर
39. **Kalpakkam is famous for/कलपक्कम प्रसिद्ध है—**
 (a) Atomic energy plant/परमाणु शक्ति संयंत्र के लिए
 (b) Defense laboratory/रक्षा प्रयोगशाला के कारण
 (c) Rocket launching centre/राकेट प्रक्षेपण केंद्र हेतु
 (d) Space centre/अन्तरिक्ष केन्द्र हेतु
40. **Which of the following is not correctly matched? निम्नलिखित में से कौन सा सुमेलित नहीं है?**
 (a) Khasi/खासी - Meghalaya/मेघालय
 (b) Lepcha/लेप्चा - Sikkim/सिक्किम
 (c) Angami/अंगामी - Manipur/मणिपुर
 (d) Toda/टोडा - Tamilnadu/तमिलनाडु
41. **Which of the following pairs (country-capital) is not correctly matched? / निम्नलिखित युग्मों (देश-राजधानी) में कौन सा सुमेलित नहीं है?**
 (a) Brazil/ब्राजील - Brasilia/ब्राजीलिया
 (b) Tunisia/ट्यूनीशिया - Tunis/ट्यूनिस
 (c) Algeria/अल्जीरिया - Algiers/अल्जीयर्स
 (d) Morocco/मोरक्को - Marrakesh/मराकेश
42. **Which of the following are active volcanoes? निम्नलिखित में से कौन से क्रियाशील ज्वालामुखी हैं?**
 1. Aconcagua/एकांकागुआ 2. Etna/एटना
 3. Kilimanjaro/किलिमंजारो 4. Vesuvius/विसुवियस
Select the correct answer from the codes given below/नीचे दिए गए कूट से सही उत्तर का चयन कीजिए :
Code/कूट :
 (a) 1 and 2/1 तथा 2 (b) 1 and 3/1 तथा 3
 (c) 2 and 3/2 तथा 3 (d) 2 and 4/2 तथा 4
43. **Western disturbances flowing towards India, are generated in : / भारत में प्रवेश करने वाले पश्चिमी विक्षोभ उत्पन्न होते हैं—**
 (a) Arabian Sea/अरब सागर में
 (b) Atlantic Sea/अन्ध महासागर में
 (c) Mediterranean Sea/भूमध्य सागर में
 (d) Indian Ocean/हिन्द महासागर में
44. **Strait of Dover connects— डोवर जलसन्धि जोड़ती है –**
 (a) Baltic Sea and the Gulf of Bothnia
 बाल्टिक सागर एवं बोथनिया की खाड़ी को
 (b) Bay of Biscay and the English Channel
 बिस्के की खाड़ी एवं इंग्लिश चैनल को

- (c) English Channel and the North Sea
 इंग्लिश चैनल एवं उत्तरी सागर को
 (d) Celtic Sea and the Irish Sea
 सेल्टिक सागर एवं आइरिश सागर को

45. Doldrum are/डोलड्रम हैं

1. Equatorial calms/भूमध्यरेखीय प्रशांत मंडल
 2. Calm and light winds/शांत वायु और हल्की पवन
 3. Roaring forties/तूफानी चालीसा
 4. Variable both in position and in extent
 अवस्थिति और विस्तार (परिमाण) दोनों में परिवर्तनशील

Select the correct answer using the code given below:

नीचे दिए गए कूट का प्रयोग कर सही उत्तर चुनिए:

- (a) 1, 2 and 4 only/केवल 1, 2 और 4
 (b) 2 and 3 only / केवल 2 और 3
 (c) 1 and 3 only/केवल 1 और 3
 (d) 2, 3 and 4 only/केवल 2, 3 और 4

46. Given below are two statements, one is labelled as Assertion (A) and the other as Reason (R).

नीचे दो कथन दिये गये हैं, एक को अभिकथन (A) तथा दूसरे को कारण (R) कहा गया है।

Assertion (A) : Chile is the leading producer of copper in the world.

अभिकथन (A) : विश्व में चिली ताँबे का प्रमुख उत्पादक है।

Reason (R) : Andes Region of North Chile is enriched with the largest deposits of Porphyry copper.

कारण (R) : उत्तरी चिली का एंडीज क्षेत्र पोर्फिरी ताँबा के विशालतम निक्षेप से सम्पन्न है।

Select the correct answer from the code given below/नीचे दिये गये कूट से सही उत्तर का चयन कीजिये:

Code/कूट:

- (a) Both (A) and (R) are true and (R) is the correct explanation of (A)/(A) तथा (R) दोनों सही हैं और (R), (A) की सही व्याख्या है।
 (b) (A) is true but (R) is false
 (A) सही है परन्तु (R) गलत है।
 (c) Both (A) and (R) are true but (R) is not the correct explanation of (A)/(A) तथा (R) दोनों सही हैं परन्तु (R), (A) की सही व्याख्या नहीं है।
 (d) (A) is false but (R) is true
 (A) गलत है परन्तु (R) सही है।

47. Generally, environment can be classified as following categories. Which among the following is NOT a part of such category?/सामान्यतया पर्यावरण को निम्न प्रकार से वर्गीकृत किया जा सकता है। निम्नलिखित में से कौन-सा एक इस वर्गीकरण का अंश नहीं है?

- (a) Operational Environment/परिचालन पर्यावरण
 (b) Physical Environment/भौतिक पर्यावरण
 (c) Cultural Environment/सांस्कृतिक पर्यावरण
 (d) Biological Environment/जैवकीय पर्यावरण

48. In which environment the annual production of bio-mass is minimum?/किस पर्यावरण में जैव-द्रव्यमान का वार्षिक उत्पादन न्यूनतम होता है?
- Deep ocean/गहरे सागर
 - Prairie/प्रेयरी
 - Deciduous forest/पतझड़ी वन
 - Taiga/टैगा
49. Which of the following is associated with biological nitrogen fixation?/निम्नलिखित में से कौन-सा जैविक नाइट्रोजन निर्धारण से संबंधित है?
- Red algae/लाल शैवाल
 - Brown algae/भूरा शैवाल
 - Green algae/हरा शैवाल
 - Blue-green algae/नीला-हरा शैवाल
50. The Smog is necessarily caused in the atmosphere by the presence of which of the following? वायुमंडल में धुंध (स्मॉग) आवश्यक रूप से निम्नलिखित में से किस की उपस्थिति के कारण उत्पन्न होती है?
- Oxygen and Ozone/ऑक्सीजन तथा ओजोन
 - Oxygen and Nitrogen/ऑक्सीजन तथा नाइट्रोजन
 - Ozone and Nitrogen/ओजोन तथा नाइट्रोजन
 - Nitrogen and Sulphur dioxide/नाइट्रोजन तथा सल्फर डाईऑक्साइड
51. The marine animal called dugong which is vulnerable to extinction is:/डुगोंग नामक समुद्री जीव जो कि विलोपन की कगार पर है, क्या है?
- Amphibian/उभयचर (ऐम्फिबियन)
 - Bony fish/बोनी फिश
 - Shark/शार्क
 - Mammal/स्तनधारी (मैमल)
52. Which of the following National Park is home of Lion tailed macaque? निम्नलिखित में से कौन-सा राष्ट्रीय उद्यान “लायन टेल्ड मैकाक” (सिंह पूंछ बन्दर) का गृह है?
- Sunderban/सुन्दरबन
 - Bandipur/बान्दीपुर
 - Simlipal/सिमलीपाल
 - Silent valley/शान्त घाटी
53. Which of the following is not correctly matched? निम्नलिखित में से कौन एक सुमेलित नहीं है?
- Sunderban/ सुन्दरवन - West Bengal/ पश्चिम बंगाल
 - Bhitarkanika/ भीतरकनिका - Odisha/उड़ीसा
 - Pichavaram/ पिचवरम् - Tamil Nadu/ तमिलनाडु
 - Vembanad/ बेम्बानद - Karnataka/कर्नाटक
54. Which one among the following substances does not contribute to global warming? निम्नलिखित में से कौन पदार्थ सार्वत्रिक तापन उत्पन्न करने में योगदान नहीं करता है?
- Oxides of Sulphur and Nitrogen/ सल्फर तथा नाइट्रोजन के ऑक्साइड
 - Methane/मीथेन

- Carbon dioxide/कार्बन डाईऑक्साइड
- Water vapour/जलवाष्प

55. Which of the following leguminous plant is also a petro-plant? निम्नलिखित फलीदार पौधों में से कौन पेट्रोपादप भी है?

- Pigeon-pea/अरहर
- Pea/मटर
- Gram/चना
- Pongam/करंज

56. Indian Institute of Ecology and Environment is located in-/इण्डियन इंस्टीट्यूट ऑफ इकोलॉजी एण्ड एनवायरनमेण्ट अवस्थित है :

- New Delhi/नई दिल्ली में
- Mumbai/मुम्बई में
- Kolkata/कोलकाता में
- Thiruvananthapuram/तिरुवनन्तपुरम में

57. Which of the following does not contribute to the rural economy?/निम्नलिखित में से कौन ग्रामीण अर्थव्यवस्था में अंशदान नहीं देता है?

- Animal husbandry/पशुपालन
- Cottage industries/कुटीर उद्योग
- The practice of lending private money निजी धन उधार देने का प्रचलन
- Availability of good equipments अच्छे उपकरणों की उपलब्धता

58. Match List I with List II and select the correct answer using the code given below the lists./सूची-I को सूची-II के साथ सुमेलित कीजिए और सूचियों के नीचे दिए गए कूट का प्रयोग कर सही उत्तर चुनिए:

List-I (Curve)	List-II (Indication)
A. Lorenze curve /लॉरेंज वक्र	1. Inflation and employment /मुद्रास्फीति और रोजगार
B. Phillips curve /फिलिप्स वक्र	2. Tax rates and tax revenue /कर दरें एवं कर राजस्व
C. Engel curve /एंजेल वक्र	3. Inequality in distribution of income/आय अथवा संपदा के वितरण में असमानता
D. Laffer curve /लाफर वक्र	4. Income and proportion of expenditure on food /आय और खाद्य पर व्यय का अनुपात

Codes/कूट:

	A	B	C	D
(a)	3	4	1	2
(b)	2	1	4	3
(c)	3	1	4	2
(d)	2	4	1	3

59. Central nodal agency for implementing price support functions for commercial crops is व्यावसायिक फसलों के लिए मूल्य समर्थन कार्यों को लागू करने के लिए केन्द्रीय नोडल एजेंसी है—
 (a) FCI/एफ.सी.आई. (b) NABARD/नाबार्ड
 (c) TRIFED/ट्राइफेड (d) NAFED/नेफेड
60. NABARD Bank does not provide re-finance in India- भारत में 'नाबार्ड' बैंक पुनः वित्त उपलब्ध नहीं कराता—
 (a) Scheduled commercial bank अनुसूचित व्यापारिक बैंकों को
 (b) Regional rural bank/क्षेत्रीय ग्रामीण बैंकों को
 (c) Export-Import Bank/निर्यात-आयात बैंक को
 (d) State land development bank राज्य भूमि विकास बैंक को
61. Company tax is a tax which is levied on- कम्पनी कर वह कर है, जो लगता है—
 (a) Tax on company production/कम्पनी के उत्पादन पर
 (b) Sale of goods/माल के बेचने पर
 (c) Company income/कम्पनी की आय पर
 (d) Stock of goods/वस्तुओं के स्टॉक पर
62. Consider the following measure that R.B.I. uses to control inflation in the economy. निम्नलिखित उपायों पर विचार करें, जिन्हें आर.बी.आई. अर्थव्यवस्था में मुद्रास्फीति को नियंत्रित करने के लिए प्रयोग में लाता है।
 1. Increase Bank Rate/बैंक दर में वृद्धि
 2. Increase Cash Reserve Ratio नकद आरक्षित अनुपात में वृद्धि
 3. Increase statutory liquidity Ratio सांविधानिक तरलता अनुपात में वृद्धि
 4. Purchase of government securities सरकारी प्रतिभूतियों का क्रय
 Select the correct answer from the codes given below : नीचे दिए गये कूट में से सही उत्तर का चयन कीजिए।
 Codes/कूट:
 (a) Only 1 and 2/केवल 1 और 2
 (b) Only 1, 2 and 3/केवल 1, 2 और 3
 (c) Only 2, 3 and 4/केवल 2, 3 और 4
 (d) Only 1, 3 and 4/केवल 1, 3 और 4
63. Inflation based on consumer price index rises if- उपभोक्ता कीमत सूचकांक पर आधारित मुद्रा स्फीति की दर बढ़ती है, यदि
 (a) Bank rate is decreased/ बैंक दर कम कर दी जाती है।
 (b) Reverse repo rate is decreased/ रिवर्स रेपो दर कम कर दी जाती है।
 (c) Statutory liquidity ratio increased/ वैधानिक तरलता अनुपात बढ़ा दिया जाता है।
 (d) Repo rate is increased/रेपो रेट बढ़ा दी जाती है।
64. Which of the following is not included in the assets of a commercial bank in India? भारत में किसी वाणिज्यिक बैंक की परिसंपत्ति में निम्नलिखित में से क्या शामिल नहीं है?
 (a) Advances/अग्रिम
 (b) Deposits/जमा
 (c) Investment/निवेश
 (d) Money at call and short notice माँग तथा अल्प सूचना मुद्रा
65. Banking reform committee is also known with which of the following name?/बैंकिंग सुधार समिति को निम्न में से किस नाम से भी जाना जाता है?
 (a) Tondon Committee/टन्डन समिति
 (b) Rangrajan Committee/रंग राजन समिति
 (c) Reddy Committee/रेड्डी समिति
 (d) Narsinham Committee/नरसिंहम समिति
66. "Budget" is an instrument of/बजट' एक लेख-पत्र है —
 (a) Monetary policy of the government सरकार की मौद्रिक नीति का
 (b) Commercial policy of the government सरकार की वाणिज्यिक नीति का
 (c) Fiscal policy of government सरकार की राजकोषीय नीति का
 (d) Money-saving policy of the government सरकार की मुद्रा-बचत नीति का
67. With whose recommendations was the service tax implemented in India? भारत में सेवा कर किसकी सिफारिशों से लागू हुआ?
 (a) Kelkar Committee/केलकर समिति
 (b) Raja J. Chellaiya Committee राजा जे. चेलैय्या समिति
 (c) Manmohan Singh Committee/मनमोहन सिंह समिति
 (d) Yashwant Sinha Committee/यशवंत सिन्हा समिति
68. Improving the grown performance of the economy and ensuring social justice to the people are two main objectives of which policy?/अर्थव्यवस्था की वृद्धि दर को बढ़ाना तथा लोगों को सामाजिक न्याय दिलाना दोनों ही मुख्य उद्देश्य किस नीति के हैं?
 (a) Monetary policy/मौद्रिक नीति
 (b) Fiscal policy/राजकोषीय नीति
 (c) Credit policy/साख नीति
 (d) Health policy/स्वास्थ्य नीति
69. Competition Commission was formed in India in- भारत में प्रतिस्पर्धा आयोग का गठन किया गया—
 (a) 2001 (b) 2002
 (c) 2003 (d) 2004
70. Match List-I with List-II and select the correct answer from the codes given below the lists: सूची-I को सूची-II से सुमेलित कीजिए तथा नीचे दिये गये कूट से सही उत्तर का चयन कीजिए:

List-I/सूची-I	List-II/सूची-II
A. SGSY	1. 2005
B. NFWP	2. 1999
C. PMRY	3. 2004
D. MGNREGA	4. 1993

Code/कूट :

A	B	C	D	A	B	C	D
(a) 1	2	3	4	(b) 2	3	4	1
(c) 3	4	2	1	(d) 4	3	2	1

71. What does infant mortality rate refer to?

शिशु मृत्यु दर क्या है?

- The ratio of number of children who die before their fifth birthday out of every 1000 live births/हर 1000 जीवित जन्मों में से अपने पाँचवें जन्मदिन से पहले मरने वाले बच्चों की संख्या का अनुपात
- The ratio of number of children who die before their first birthday out of every 1000 live births/हर 1000 जीवित जन्मों में से अपने पहले जन्मदिन से पहले मरने वाले बच्चों की संख्या का अनुपात
- The ratio of number of children who die before their fifth birthday out of every 100 live births/हर 100 जीवित जन्मों में से अपने पाँचवें जन्मदिन से पहले मरने वाले बच्चों की संख्या का अनुपात
- The ratio of number of children who die before their first birthday out of every 100 live births/हर 100 जीवित जन्मों में से अपने पहले जन्मदिन से पहले मरने वाले बच्चों की संख्या का अनुपात

72. The 'parsec' is the unit of 'पारसेक' (Parsec) मात्रक है-

- Distance/दूरी का
- Time/समय का
- Energy/ऊर्जा का
- Temperature/तापक्रम का

73. A body has a mass of 6 kg on the Earth; when measured on the Moon, its mass would be एक पिण्ड का पृथ्वी पर द्रव्यमान 6 kg है। अगर इसके द्रव्यमान को चन्द्रमा पर मापा जाय तो कितना होगा?

- nearly 1 kg/लगभग 1 किग्रा
- less than 1 kg/1 किग्रा से कम
- less than 6 kg/6 किग्रा से कम
- 6 kg/6 किग्रा

74. The walls of the hall built for music concerts should:

म्यूजिक कन्सर्ट्स के लिए हॉल की दीवारों को -

- amplify sound/ध्वनि को बढ़ाना चाहिए
- transmit sound/ध्वनि प्रेषित करना चाहिए
- reflect sound/ध्वनि को परावर्तित करना चाहिए
- absorb sound/ध्वनि को अवशोषण करना चाहिए

75. Perspiration cools the body because:

पसीना शरीर को ठण्डा करता है, क्योंकि-

- presence of water on the skin is cooling त्वचा पर पानी की मौजूदगी शीतलता देती है
- evaporation requires latent heat/वाष्पीकरण के लिए गुप्त ऊष्मा की आवश्यकता होती है
- water has a high specific heat पानी की विशिष्ट ऊष्मा उच्च होती है
- water is a poor conductor of heat पानी ऊष्मा का हीन चालक है

76. Total internal reflection can take place when light travels from:

पूर्ण आंतरिक परावर्तन होता है जब प्रकाश जाता है -

- diamond to glass/हीरे से काँच में
- water to glass/जल से काँच में
- air to water/वायु से जल में
- air to glass/वायु से काँच में

77. What type of mixture is smoke ? धुआ किस प्रकार का मिश्रण है?

- Solid mixed with a gas/गैस मिश्रित ठोस
- Gas mixed with a gas/गैस मिश्रित गैस
- Liquid mixed with a gas/गैस मिश्रित द्रव
- Gas mixed with a liquid and a solid/द्रव एवं ठोस मिश्रित गैस

78. What is the role of positive catalyst in a chemical reaction?/किसी रासायनिक अभिक्रिया में धन उत्प्रेरक की भूमिका क्या है?

- it increases the rate of reaction यह अभिक्रिया की दर को बढ़ाता है
- It decreases the rate of reaction यह अभिक्रिया की दर को घटाता है
- It increases the yield of the products यह उत्पाद की लब्धि को बढ़ाता है
- It provides better purity of the products यह उत्पाद की बेहतर शुद्धता प्रदान करता है

79. According to weight, percentage of hydrogen in water (H₂O) is-

भार के अनुसार जल (H₂O) में हाइड्रोजन की प्रतिशत है-

- 44.45 %
- 5.55%
- 88.89%
- 11.11%

80. Which is not a Micro Element?

कौन सूक्ष्म तत्त्व नहीं है?

- Iron/लोहा
- Zinc/जस्ता
- Sulphur/गंधक
- Manganese/मैंगनीज़

81. Which one of the following is NOT correctly matched?

निम्नलिखित में से कौन-सा सही सुमेलित नहीं है?

(Substance)/पदार्थ (Use)/उपयोग

- | | |
|-------------------------|---------------------------|
| (a) Silver bromide | artificial photosynthesis |
| सिल्वर ब्रोमाइड | कृत्रिम प्रकाश संश्लेषण |
| (b) Silver iodide | artificial rain |
| सिल्वर आयोडाइड | कृत्रिम वर्षा |
| (c) Lithium bicarbonate | treatment of rheumatism |
| लिथियम बाइकार्बोनेट | गठिया का उपचार |
| (d) Milk of magnesia | antacid |
| दूधिया मैग्नीशिया | प्रति-अम्ल |

82. Oncology is the study of/ऑन्कोलॉजी अध्ययन है :

- Birds/पक्षियों का
- Cancer/कैंसर कर
- Mammals/स्तनधारियों का
- Soil/मृदा का





83. Milk protein digestive enzyme is- दुग्ध प्रोटीन को पचाने वाला एंजाइम है-

- Pepsin/पेप्सिन
- Trypsin/ट्रिप्सिन
- Rennin/रेनिन
- Erepsin/इरेप्सिन

84. Latest ancestor of modern human is आधुनिक मनुष्य का हाल का पूर्वज है -
 (a) Java man/जावा मनुष्य
 (b) Cro-Magnon man/क्रोमैग्नान मनुष्य
 (c) Neanderthal man/निण्डरथल मनुष्य
 (d) Peking man/पेकिंग मनुष्य
85. Three chambered heart is found in : त्रिकोष्ठीय हृदय पाया जाता है—
 (a) Mammals/स्तनधारियों में (b) Birds/पक्षियों में
 (c) Amphibians/उभयचरों में (d) Pisces/मछलियों में
86. What is the name of the vessel that delivers the nutrient rich blood from the stomach & small intestine to the liver ?
 उस वाहिका का नाम क्या है जो आमाशय तथा क्षुद्रांत्र से यकृत में पोषकयुक्त रक्त देती है?
 (a) Left hepatic artery/बायीं यकृती धमनी
 (b) Hepatic vein/यकृती शिरा
 (c) Right hepatic artery/दायीं यकृती धमनी
 (d) Hepatic portal vein/यकृती प्रवेशद्वार शिरा
87. Which one of the following is the 'energy currency' for cellular processes?/कोशिकीय प्रक्रियाओं के लिए 'ऊर्जा मुद्रा (एनर्जी करेंसी), निम्नलिखित में से किसे कहते हैं?
 (a) Glucose/ग्लूकोज
 (b) ATP/ए.टी.पी.
 (c) ADP/ए.डी.पी.
 (d) Pyruvic acid/पाइरुविक अम्ल
88. Which one of the following vitamins is formed in skin in the presence of sunlight? निम्न में से कौन-सा एक विटामिन सूर्य के प्रकाश की उपस्थिति में त्वचा में बनते है?
 (a) Vitamin A/विटामिन A (b) Vitamin D/विटामिन D
 (c) Vitamin K/विटामिन K (d) Vitamin E/विटामिन E
89. To which one of the following types of organism do mushrooms belong?/जीवों के निम्नलिखित प्रकारों में से छत्रक (मशरूम) किससे सम्बद्ध है?
 (a) Algae/शैवाल
 (b) Ferns/फर्न
 (c) Fungi/कवक
 (d) Lichens/लैक (लाइकेन)
90. Mulberry shawl is made from- शहतूत शाल बनाई जाती है -
 (a) Hungal hairs/हुंगल के बालों से
 (b) Chinkara hairs/चिंकारा के बालों से
 (c) Chiru hairs/चिरु के बालों से
 (d) Merino hairs/मेरिनो के बालों से
91. इनमें से किसका उच्चारण-स्थान 'कंठ' है?
 (a) त (b) ग
 (c) प (d) च
92. 'मातृणाम्' का शुद्ध संधि-विच्छेद है
 (a) मात + ऋणाम् (b) मातृ + ऋणाम्
 (c) मात + रिणाम् (d) मातर + इणाम्
93. 'नील परिधान बीच सुकुमार,
 खुल रहा मृदुल अधखुला अंग।
 खिला हो ज्यों बिजली का फूल
 मेघ बन बीच गुलाबी रंग।' इन पंक्तियों में कौन सा अलंकार है?
 (a) उत्प्रेक्षा (b) श्लेष
 (c) रूपक (d) उपमा
94. 'भक्षण' में कौन-सा प्रत्यय है?
 (a) क्षण (b) आन
 (c) अन (d) इनमें से कोई नहीं
95. 'गोबर-गणेश' यह किस समास का उदाहरण है?
 (a) संबंध तत्पुरुष (b) संप्रदान तत्पुरुष
 (c) करण तत्पुरुष (d) अधिकरण तत्पुरुष
96. 'गीता ने कहानी लिखकर पुरस्कार प्राप्त किया।' वाक्य किसका उदाहरण है?
 (a) सरल वाक्य (b) संयुक्त वाक्य
 (c) मिश्र वाक्य (d) इनमें से कोई नहीं
97. "पैसे से ही आदमी की इज्जत है" के लिए निम्नलिखित में से उचित लोकोक्ति का चयन कीजिये—
 (a) अपनी पगड़ी अपने हाथ
 (b) होनहार बिरवान के होत चिकने पात
 (c) जैसी तेरी कामरी वैसे मेरे गीत
 (d) जर है तो नर नहीं तो खण्डहर
98. 'बिना पलक झपकाए' के लिए एक शब्द है :
 (a) निष्पलक (b) निस्पृह
 (c) निर्निमेष (d) निर्विकार
99. इनमें से विलोम शब्दों का एक सही युग्म है—
 (a) आपत्ति - विपत्ति (b) अवर्षण - अनावर्षण
 (c) गणतन्त्र - जनतन्त्र (d) आदृत - तिरस्कृत
100. 'विडौजा' पर्यायवाची शब्द है—
 (a) 'नक्षत्र' का (b) 'अप्सरा' का
 (c) 'इन्द्र' का (d) 'पत्थर' का
101. Select the most appropriate meaning of the given idiom.
A bad egg
 (a) Someone who regularly makes mistakes
 (b) Someone who is dishonest and unreliable
 (c) Someone who doesn't like eggs
 (d) Someone who likes to break eggs
102. Select the correctly spelt word.
 (a) acommodation (b) accomodation
 (c) accommodation (d) acomodation
103. Select the most appropriate option to fill in the blank.
 The pleasant _____ of the rain as it fell on the dust made me feel nostalgic.
 (a) incense (b) balm
 (c) aroma (d) perfume
104. Select the most appropriate synonym of the given word.
Abode
 (a) Annex (b) Habituation
 (c) Dwelling (d) Aboard

105. Select the most appropriate synonym of the given word.
EXASPERATE
(a) Imitate (b) Desperate
(c) infuriate (d) Appreciate
106. In the following question, out of the given four alternatives, select the one which is opposite in meaning of the given word.
Apposite
(a) Suitable (b) Inappropriate
(c) Timely (d) Relevant
107. Select the word which means the same as the group of words given.
Repetition of an initial sound in two or more words of a line.
(a) Rhyme (b) Assonance
(c) Alliteration (d) Rhythm
108. In the sentence identify the segment which contains the grammatical error.
Having just taking a heavy lunch, she was not ready to have any fruit.
(a) taking a heavy (b) she was not ready
(c) to have any fruit (d) having just
109. Sentence of a paragraph are given below in jumbled order. Arrange the sentences in the right order to form a meaningful and coherent paragraph.
1. As a result, he had a debt of 500 million US dollars at the time of his death.
2. Unfortunately, he began spending lavishly on anything he desired, not what he actually needed.
3. Michael Jackson, called the 'King of Pop Music', stayed at the top of his career for many years.
4. He was respected for his work culture; he would spend long nights at the studio to fix a note correctly in a song.
(a) 4213 (b) 3421
(c) 2143 (d) 1432
110. Fill in the blank with the most appropriate word.
Second-hand furniture _____ here at reasonable prices.
(a) were selling (b) are sold
(c) is sold (d) has sold
111. For converting raw input data into useful information, all computer systems perform the following basic process-
रॉ इनपुट को उपयोगी जानकारी में बदलने के लिए, सभी कम्प्यूटर सिस्टम द्वारा निम्नलिखित मौलिक प्रक्रिया का पालन किया जाता है-
(a) Input-Store-Process-output-Control
इनपुट-स्टोर-प्रोसेस-आउटपुट-कंट्रोल
(b) Input-Process/इनपुट-प्रोसेस
(c) Process-Control-Output/प्रोसेस-कंट्रोल-आउटपुट
(d) Input-Store-Output/इनपुट-स्टोर-आउटपुट
112. The following pairs are given-
निम्नलिखित युग्म दिए गए हैं-
(A) Wi-Fi/वाई फाई – Modem/मॉडेम
(B) Chrome/क्रोम – Cable/केबल
(C) File/फाइल – Hard-drive/हार्ड ड्राइव
(D) Charging/चार्जिंग – Cable/केबल
Which of the above pair is different from others.
निम्नलिखित में से कौन सा युग्म शेष से भिन्न है?
(a) C and D/C तथा D (b) Only A/केवल A
(c) Only B/केवल B (d) Only C/केवल C
113. HDMI stands for.....
एचडीएमआई का पूर्ण रूप क्या है?
(a) High Definition Media Interface
हाई डेफिनिशन मीडिया इंटरफेस
(b) High Display Media Interface
हाई डिस्प्ले मीडिया इंटरफेस
(c) High Definition Multimedia Interface
हाई डेफिनिशन मल्टीमीडिया इंटरफेस
(d) High Display Multimedia Interface
हाई डिस्प्ले मल्टीमीडिया इंटरफेस
114. Which of the following categories of mouse uses a laser for detecting the movement of the mouse?
निम्न में से माउस की कौन सी श्रेणी माउस की मूवमेंट का पता लगाने के लिए लेजर का उपयोग करती है?
(a) Mechanical mouse/मैकेनिकल माउस
(b) Optomechanical mouse/ऑप्टोमैकेनिकल माउस
(c) Both Mechanical and Optomechanical mouse
दोनों मैकेनिकल माउस और ऑप्टोमैकेनिकल माउस
(d) Optical mouse/ऑप्टिकल माउस
115. Identify whether the given statements are true or false./दिए गए कथनों के सही या गलत होने का निर्धारण कीजिए।
(i) SDRAM is known as Synchronous DRAM, and it is faster than the general DRAM./SDRAM को सिंक्रोनस DRAM के रूप में जाना जाता है और यह सामान्य DRAM से अधिक तेज होती है।
(ii) SRAM is faster than DRAM, but it requires continuous refreshing./SRAM, DRAM से अधिक तेज होती है, लेकिन इसे लगातार रिफ्रेश करने की आवश्यकता होती है।
(a) (i)-True, (ii)-False/(i)-सही, (ii)-गलत
(b) (i)-True, (ii)-True/(i)-सही, (ii)-सही
(c) (i)-False, (ii)-True/(i)-गलत, (ii)-सही
(d) (i)-False, (ii)-False/(i)-गलत, (ii)-गलत
116. In IT, the method for updating the main memory as soon as a word is removed from the cache is called/सूचना प्रौद्योगिकी में कैश में से वर्ड को हटाते ही मुख्य मेमोरी को अद्यतन (Update) करने की विधि को क्या कहते हैं?
(a) Write – through/राइट-थ्रू
(b) Write- back/राइट-बैक
(c) Protected-write/प्रोटेक्टेड-राइट
(d) Cache-write/कैश-राइट
117. In computer terminology, one terabyte is equal to...../कम्प्यूटर शब्दावली में, एक टेराबाइट.....के बराबर होता है।

- (a) 1024 megabytes/1024 मेगाबाइट्स
(b) 1024 bits/1024 बिट्स
(c) 1024 gigabytes/1024 गीगाबाइट्स
(d) 1024 petabytes/1024 पेटाबाइट्स
118. In an application window is a button which you can drag left or right to increase or decrease the setting value respectively. किसी एप्लिकेशन विंडो में, — एक बटन होता है जिसे आप बाईं या दाईं ओर खींचकर (ड्रैग कर) सेटिंग मान को क्रमशः घटा या बढ़ा सकते हैं।
(a) Scroll bar/स्कॉल बार (b) Spinner/स्पिनर
(c) Text bar/टेक्स्ट बॉक्स (d) Slider/स्लाइडर
119. Which of the following statement(s) is/are CORRECT with respect to BIOS? निम्नलिखित में से कौन सा/से कथन BIOS के संबंध में सही है/हैं?
I. It is a set of computer instructions in firmware. यह फर्मवेयर में कम्प्यूटर निर्देशों का एक समुच्चय है।
II. It controls input and output operations. यह इनपुट तथा आउटपुट संचालन नियंत्रित करता है।
III. Full form of BIOS is basic input-output system./ BIOS का पूर्ण रूप बेसिक इनपुट-आउटपुट सिस्टम है।
(a) Only I and II/केवल I तथा II
(b) Only I and III/केवल I तथा III
(c) Only II and III/केवल II तथा III
(d) All statements are correct./सभी कथन सही हैं।
120. Application software may be used for the following variety of purposes: एप्लीकेशन सॉफ्टवेयर को निम्नलिखित विभिन्न उद्देश्यों हेतु प्रयोग किया जा सकता है:
1. As a business tool/एक व्यापारिक टूल के रूप में
2. To facilitate communication/संचार की सुविधा के लिए
3. To handle creation and deletion of processes/क्रियाओं के निर्माण तथा विलोपन संचालित करने हेतु
4. To provide backup system/बैकअप सिस्टम प्रदान करने हेतु
Which of these are correct?/इनमें से कौन-से सही हैं?
(a) 1 and 2 only/केवल 1 और 2
(b) 3 and 4 only/केवल 3 और 4
(c) 1, 2 and 3 only/केवल 1, 2 और 3
(d) All 1, 2, 3 and 4/1, 2, 3 और 4 सभी
121. _____ is an example for external DBMS. बाहरी डीबीएमएस (DBMS) के लिए एक उदाहरण है:
(a) Operating system/ऑपरेटिंग सिस्टम
(b) Microsoft Excel/माइक्रोसॉफ्ट एक्सेल
(c) Oracle/ओरेकल
(d) Microsoft Word/माइक्रोसॉफ्ट वर्ड
122. Web Page Written in which language. वेब पेज किस भाषा में लिखा जाता है?
(a) C/C++ (b) FORTRAN
(c) SQL (d) HTML
123. Internet was started in India on : भारत में इंटरनेट की शुरुआत कब हुई थी?
(a) 8 August 1994/8 अगस्त 1994
(b) 15 August 1995/15 अगस्त 1995
(c) 11 August 1995/11 अगस्त 1995
(d) 9 August 1996/9 अगस्त 1996
124. The criteria used to define the method of transmitting data over a computer network is known as एक कम्प्यूटर नेटवर्क पर डाटा को आदान-प्रदान करने की पद्धति को परिभाषित करने हेतु इस्तेमाल किए जाने वाले मानदण्ड को — के रूप में जाना जाता है।
(a) Protocol/प्रोटोकॉल (b) Service/सर्विस
(c) Property/प्रॉपर्टी (d) Topology/टोपोलॉजी
125. What is that network configuration called in which all information is passed through a central computer? उस नेटवर्क कॉन्फिगरेशन को क्या कहते हैं जिसमें एक केन्द्रीय कम्प्यूटर के माध्यम से सभी डेटा/जानकारियां पारित होती हैं?
(a) Bus network/बस नेटवर्क
(b) Ring network/रिंग नेटवर्क
(c) Point to point network/पॉइंट-टू-पॉइंट नेटवर्क
(d) Star network/स्टार नेटवर्क
126. Which of the following is necessary to exchange data between the computers worldwide with the help of telephone lines? टेलीफोन लाइन की सहायता से विश्वभर के कम्प्यूटरों के मध्य आँकड़ों (डाटा) का आदान-प्रदान करने के वास्ते निम्न में से कौन सा आवश्यक है?
(a) Fax/फैक्स (b) Modem/मॉडेम
(c) Scanner/स्कैनर (d) Hub/हब
127. Which of the following is/are cross-platform browser (s)? निम्नलिखित में से कौन-सा/से क्रॉस-प्लेटफॉर्म ब्राउज़र हैं?
(i) Chrome/क्रोम (ii) Edge/एज
(iii) Safari/सफारी
(a) Only (ii)/केवल (ii)
(b) Only (i)/केवल (i)
(c) Only (ii) and (iii)/केवल (ii) और (iii)
(d) Only (i) and (iii)/केवल (i) और (iii)
128. URL means:/URL का अर्थ है:
(a) यूनिक रिसोर्स लेबल (Unique Resource Label)
(b) यूनिफॉर्म रिसोर्स लोकेटर (Uniform Resource Locator)
(c) यूनिक रेफरेंस लेबल (Unique Reference Label)
(d) यूनिफॉर्म रेफरेंस लोकेटर (Uniform Reference Locator)

129. What is the full form of OLE in relation to windows application
Windows एप्लिकेशंस के संबंध में, OLE का पूर्ण रूप क्या है?
- (a) Online Linking and Embedding/ऑनलाइन लिंकिंग और एम्बेडिंग
(b) Object Linking and Embedding/ऑब्जेक्ट लिंकिंग और एम्बेडिंग
(c) Online Linking and Embarking/ऑनलाइन लिंकिंग और इम्बार्किंग
(d) Object Linking and Embarking/ऑब्जेक्ट लिंकिंग और इम्बार्किंग
130. Which shortcut key is used to make the text italic ?
टेक्स्ट को इटैलिक बनाने के लिए शॉर्टकट-की कौन सी है?
- (a) Ctrl + U (b) Ctrl + T
(c) Ctrl + I (d) Ctrl + P
131. Choose the pair that best represents a similar relationship to the one expressed in the original pair of words :
उस युग्म का चयन करें, जिसके दोनों शब्दों के मध्य वही संबंध है जो मूल युग्म के दोनों शब्दों के मध्य है।
Frequency : Hertz/आवृत्ति : हर्ट्ज
- (a) Resistance : Kelvin /प्रतिरोध : केल्विन
(b) Energy : Newton/ऊर्जा : न्यूटन
(c) Volume : Square metre/आयतन : वर्ग मीटर
(d) Heat : Joule/ऊष्मा : जूल
132. Select the option that is related to the third term in the same way as the second term is related to the first term.
उस विकल्प का चयन कीजिए जिसमें चौथा पद (तीसरे पद से उसी प्रकार से सम्बन्धित है जिस प्रकार से दूसरा पद पहले पद से सम्बन्धित है।
SMART : MSTTR :: CROWN : ?
- (a) NWHRG (b) RCHNW
(c) WNHCN (d) CRHNW
133. If PUBLIC is coded as 7343186 and SACRED is coded as 10269108, then how will VICTORY be coded?
यदि PUBLIC को 7343186 के रूप में कूटबद्ध किया जाता है और SACRED को 10269108 के रूप में कूटबद्ध किया जाता है, तो VICTORY को किस रूप में कूटबद्ध किया जाएगा ?
- (a) 46341287 (b) 43624718
(c) 41862697 (d) 49326917
134. In a certain code language, 'JACKET' is written as '8-25-1-9-3-18'. What will be the code for 'SWEATER' in that code language?
किसी कूट भाषा में, 'JACKET' को '8-25-1-9-3-18' लिखा जाता है। उसी कूट भाषा में 'SWEATER' का कूट क्या होगा?
- (a) 17-21-3-25-18-3-16
(b) 19-22-4-26-17-4-17
(c) 19-23-5-27-20-5-17
(d) 17-20-2-24-18-3-16
135. Four words have been given, out of which three are alike in some manner and one is different. Select the odd one.
नीचे चार शब्द दिए गए हैं, जिनमें से तीन किसी न किसी प्रकार संगत हैं और एक असंगत है। उस असंगत शब्द का चयन करें।
- (a) Pea / मटर (b) Carrot / गाजर
(c) Potato / आलू (d) Radish / मूली
136. Select the number from among the given options that can replace the question mark (?) in the following series.
दिये गये विकल्पों से वह संख्या चुनें जो निम्नलिखित शृंखला में प्रश्नवाचक चिह्न (?) के स्थान पर आ सकती है।
20, 21, 42, 14, 18, ?, 15
- (a) 76 (b) 56
(c) 90 (d) 72
137. Select the number that can replace the question mark (?) in the following series.
उस सही विकल्प का चयन करें जो नीचे दी गई शृंखला को पूरा करेगा।
7, 25, 79, 241, ?
- (a) 652 (b) 380
(c) 727 (d) 439
138. Select the figure that will come next in the following figures series.
उस आकृति का चयन कीजिए जो निम्नलिखित शृंखला में अगले स्थान पर आएगी।
- | | | | | |
|--------|--------|--------|--------|---|
| ↑
▲ | △
→ | ▲
↓ | ←
△ | ? |
|--------|--------|--------|--------|---|
- (a)  (b) 
(c)  (d) 
139. Study the given pattern carefully and select the number that can replace the question mark (?) in it.
दिए गए नमूने (पैटर्न) का ध्यानपूर्वक अध्ययन करें और उस संख्या का चयन करें जो इसमें प्रश्न चिह्न (?) के स्थान पर प्रयुक्त हो सकता है।
12 24 26
30 31 42
48 38 ?
- (a) 46 (b) 58
(c) 56 (d) 48
140. Arjun walks 22 metres southward. Then turning to his right, and walks 22 metres to reach an ATM. Then turning to his left, and walks 20 metres to reach a bookstall. Again, he turns to his left and walks 22 metres to reach his office. How far is he from his starting point?

अर्जुन दक्षिण की ओर 22 मीटर चलता है। फिर वह अपने दाईं ओर मुड़ता है और 22 मीटर चल कर एक एटीएम पर पहुंचता है। उसके बाद वह अपने बाईं ओर मुड़ता है और 20 मीटर चल कर एक बुक-स्टाल पर पहुंचता है। वह फिर अपने बाईं ओर मुड़ता है और 22 मीटर चल कर अपने ऑफिस पहुंचता है। अब वह अपने प्रारंभिक बिंदु से कितनी दूरी पर है?

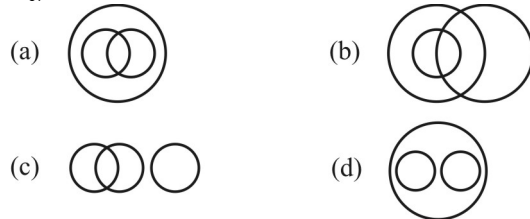
- (a) 40 m (b) 38 m
(c) 42 m (d) 44 m

141. Pointing to a picture of Rajiv, a lady Neena said, "His sister's father is the only son of my father-in-law." How is Neena related to Rajiv? राजीव की तस्वीर की ओर संकेत करते हुए, एक महिला नीना ने कहा, "उसकी बहन के पिता मेरे ससुर के इकलौते पुत्र हैं।" नीना का राजीव से क्या संबंध है?

- (a) Granddaughter/ पोती/नातिन
(b) Mother / माँ
(c) Sister / बहन
(d) Paternal Grandmother/ दादी

142. Select the Venn diagram that best illustrates the relationship between the following classes. उस आरेख को चुनिए जो नीचे दिए गए वर्गों के बीच के संबंध को सही प्रकार से दर्शाता है।

Scooter, Vehicle, Auto-rickshaw
स्कूटर, वाहन, आटो-रिक्शा



143. Two statements are given, followed by four conclusions number I, II, III, IV. Assuming that the information given in the statements is true, even if it appears to be at variance with commonly known facts, decide which of the following conclusions logically follow (s) from the statements.

दो कथन दिए गए हैं, उसके बाद चार निष्कर्ष I, II, III, IV दिए गए हैं। यह मानते हुए कि कथनों में दी गई जानकारी सही है, भले ही यह सामान्य रूप से ज्ञात तथ्यों से भिन्न प्रतीत होते हैं, तो, यह निर्णय ले कि दिए गए निष्कर्षों में से कौन सा निष्कर्ष तार्किक रूप से कथन का अनुसरण करता है।

Statement : कथन :

- No lotion is a syrup. कोई भी लोशन सिरप नहीं है।
- All syrups are liquids. सभी सिरप तरल हैं।

Conclusions : निष्कर्ष :

- No lotion is a liquid. /कोई लोशन तरल नहीं है।
- No liquid is a lotion. कोई भी तरल लोशन नहीं है।

III. Some liquids are syrups./कुछ तरल सिरप हैं।

IV. All liquids are syrups./सभी तरल सिरप हैं।

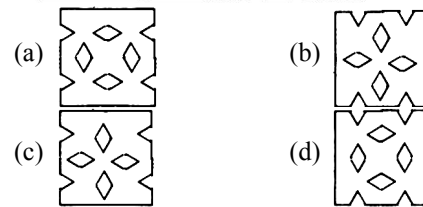
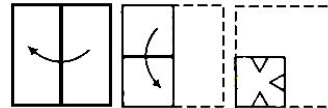
- Only conclusion I follows केवल निष्कर्ष I अनुसरण करता है।
- Both conclusion I and IV follow निष्कर्ष I और IV दोनों अनुसरण करते हैं।
- Both conclusions I and II follow निष्कर्ष I और II दोनों अनुसरण करते हैं।
- Only conclusion III follows केवल निष्कर्ष III अनुसरण करता है।

144. Arpita, Gagan, Nitin, Varsha, Shreya and Shahid are sitting in a straight line facing the north. Nitin is to the immediate left of Gagan. Shreya is between Arpita and Shahid. Shahid is at the second place from the right end. Four persons are sitting between Nitin and Varsha. Who is sitting between Varsha and Shreya?

अर्पिता, गगन, नितिन, वर्षा, श्रेया और शाहिद एक सीधी रेखा में उत्तर दिशा की ओर मुंह किए हुए बैठे हैं। नितिन गगन के ठीक बाएँ है। श्रेया अर्पिता और शाहिद के बीच में है। शाहिद दाएँ छोर से दूसरे स्थान पर है। नितिन और वर्षा के बीच में चार लोग बैठे हैं। वर्षा और श्रेया के बीच में कौन हैं?

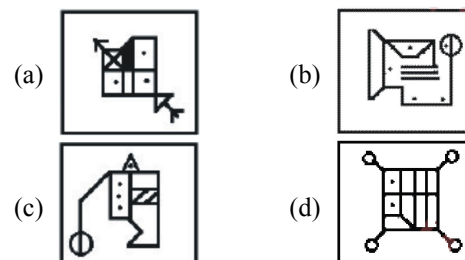
- Arpita/अर्पिता
- Varsha/वर्षा
- Gagan/गगन
- Shahid/शाहिद

145. A paper is folded and cut as shown below. How will it appear when unfolded ? एक कागज को निम्नांकित चित्र के अनुसार मोड़ा और काटा गया है। इसे खोले जाने पर यह कैसा दिखेगा?



146. Select the option in which the given figure is embedded (rotation is NOT allowed).

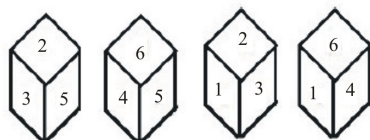
उस विकल्प का चयन करें जिसमें दिया गया चित्र अंतर्निहित है (घुमाने की अनुमति नहीं है)



147. Select the correct mirror image of the given combination when the mirror is placed at 'PQ' as shown :
यदि दर्पण को दिए गए चित्र के अनुसार 'PQ' पर रखा जाए, तो दिए गए संयोजन का दर्पण में निर्मित सही प्रतिबिम्ब का चयन कीजिए।



- (a) $\overline{\text{MERCURY}}$ (b) $\overline{\text{YRUOYEM}}$
(c) $\overline{\text{MERCURY}}$ (d) $\overline{\text{YRUOYEM}}$
148. Four different positions of the same dice are shown. Select the number that will be on the face opposite to the face showing '2' ?
एक ही पासे की चार अलग-अलग स्थितियाँ दर्शायी गयी हैं। उस संख्या का चयन करें जो संख्या '2' दर्शाने वाले फलक के विपरीत फलक हो?



- (a) 6 (b) 1
(c) 5 (d) 4
149. Select the correct option that indicates the arrangement of the given words in the order in which they appear in an English dictionary.
उस सही विकल्प का चयन करें, जो दिए शब्द व्यवस्था को उस क्रम में इंगित करता है जिसमें वे किसी अंग्रेजी शब्दकोश में दिखाई पड़ते हैं-

1. Monopolist 2. Modifier
3. Moisture 4. Moderate
5. Modulus

- (a) 4, 2, 3, 1, 5 (b) 4, 2, 5, 3, 1
(c) 4, 3, 2, 1, 5 (d) 4, 2, 3, 5, 1
150. Select the correct option that indicates the arrangement of the given words in a logical and meaningful order.

1. Chandigarh 2. Rock Garden 3. Asia
4. India 5. World

उस विकल्प का चयन करें, जो दिए गए शब्दों के तार्किक और अर्थपूर्ण क्रम-विन्यास को दर्शाता है।

1. चंडीगढ़ 2. रॉक गार्डन 3. एशिया
4. भारत 5. विश्व

- (a) 5, 3, 4, 2, 1 (b) 2, 3, 4, 1, 5
(c) 5, 3, 4, 1, 2 (d) 3, 5, 4, 1, 2
151. In the following question, select the word which cannot be formed using the letters of the given word.
निम्नलिखित विकल्पों में से वह शब्द चुनिए जो दिए गए शब्द के अक्षरों का प्रयोग करके नहीं बनाया जा सकता।

PUBLICATION

- (a) LENT (b) BAIN
(c) PUBLIC (d) PAIN

152. Which two signs should be interchanged to make the given equation correct?

दिए गए समीकरण को संतुलित करने के लिए किन दो चिह्नों को आपस में बदला जाना चाहिए?

$$30 + 2 \div 3 \times 6 - 5 = 28$$

- (a) + and - (b) \times and -
(c) + and \div (d) \times and \div

153. If + means -, - means \times , \times means \div , and \div means +, then what will be the value of following expression?

$$15 - 2 \div 90 \times 9 + 10$$

यदि '+' का अर्थ '-', '-' का अर्थ ' \times ', ' \times ' का अर्थ ' \div ' और ' \div ' का अर्थ '+' है, तो निम्नलिखित व्यंजक का मान क्या होगा?

$$15 - 2 \div 90 \times 9 + 10$$

- (a) 40 (b) 30
(c) 32 (d) 50

154. A word is represented by only one set of numbers as given in any one of the alternatives. The sets of numbers given in the alternatives are represented by two classes of alphabets as shown in the given two matrices. The columns and rows of Matrix-I are numbered from 0 to 4 and that of Matrix-II are numbered from 5 to 9. A letter from these matrices can be represented first by its row and next by its column, for example, 'D' can be represented by 04,77, etc. and 'U' can be represented by 33,65, etc. Similarly, you have to identify the set for the word "LOVE".

एक शब्द केवल एक संख्या-समूह द्वारा दर्शाया गया है, जैसा कि विकल्पों में से किसी एक में दिया गया है। विकल्पों में दिए गए संख्या-समूह अक्षरों के दो वर्गों द्वारा दर्शाए गए हैं, जैसा कि दिए गए दो आव्यूहों में है। आव्यूह-I के स्तम्भ और पंक्ति की संख्या 0 से 4 है और आव्यूह-II की 5 से 9। इन आव्यूहों से एक अक्षर को पहले उसकी पंक्ति और बाद में स्तम्भ संख्या द्वारा दर्शाया जा सकता है। उदाहरण के लिए 'D' को 04,77 आदि द्वारा दर्शाया जा सकता है तथा 'U' को 33, 65, आदि द्वारा दर्शाया जा सकता है। इसी तरह से आपको प्रश्न में दिए शब्द "LOVE" के लिए समूह को पहचानना है।

Matrix-I
आव्यूह-I

	0	1	2	3	4
0	U	V	F	C	D
1	L	Y	K	E	J
2	X	P	V	M	K
3	B	R	E	U	H
4	A	L	D	X	N

Matrix-II
आव्यूह-II

	5	6	7	8	9
5	S	N	L	A	H
6	U	O	Z	Y	E
7	B	X	D	C	P
8	X	H	S	M	T
9	V	F	A	X	O

- (a) 10, 65, 95, 69 (b) 57, 66, 96, 13
(c) 57, 99, 01, 69 (d) 41, 99, 23, 69

155. Product A is costlier than product B by ₹2. If the price of products A is increased by two times the price of product B, the new price of product A becomes ₹17. What is the price of product B?
उत्पाद A उत्पाद B से ₹2 महंगा है। अगर उत्पाद A का मूल्य उत्पाद B के मूल्य की तुलना में दोगुना बढ़ जाता है, तो उत्पाद A का नया मूल्य ₹17 हो जाता है। उत्पाद B का मूल्य क्या है?
(a) ₹ 3 (b) ₹ 5
(c) ₹ 7 (d) ₹ 6
156. With reference to Uttar Pradesh, which of the following statements is/are correct?
उत्तर प्रदेश के सन्दर्भ में, निम्नलिखित कथनों में से कौन-सा/से सही है/हैं?
1. Uttar Pradesh is divided into 9 economic regions.
उत्तर प्रदेश 9 आर्थिक क्षेत्रों में बंटा है।
2. Uttar Pradesh has 11 agro-climatic zones.
उत्तर प्रदेश में 11 कृषि-जलवायु क्षेत्र हैं।
Select the correct answer using the code given below:/नीचे दिए गए कूट का प्रयोग कर सही उत्तर का चयन कीजिए –
Code/कूट :
(a) Both 1 and 2/1 और 2 दोनों
(b) Neither 1 nor 2/न तो 1 ना ही 2
(c) Only 2/केवल 2
(d) Only 1/केवल 1
157. Consider the following statements with reference to Attorney General of India – भारत के महान्यायवादी के संदर्भ में निम्नलिखित कथनों पर विचार कीजिए –
1. He holds office during the pleasure of the Prime Minister.
वे प्रधानमंत्री की मर्जी तक पद पर बने रहते हैं।
2. He is not entitled to the privileges of a Member of Parliament.
वे संसद सदस्य के विशेषाधिकार के हकदार नहीं हैं।
Select the correct answer from the code given below:/नीचे दिए गए कूट से सही उत्तर चुनिए :
Code/कूट :
(a) Only 1/केवल 1
(b) Only 2/केवल 2
(c) Neither 1 nor 2/न तो 1 ना ही 2
(d) Both 1 and 2/1 और 2 दोनों
158. In which of the following year, was the authority of the British established over the fort of Prayagraj (U.P.)?
निम्नलिखित में से किस वर्ष प्रयागराज (उ.प्र.) के किले पर अंग्रेजों का अधिकार स्थापित हुआ?
(a) 1790 A.D./ 1790 ई. (b) 1792 A.D./ 1792 ई.
(c) 1796 A.D./ 1796 ई. (d) 1797 A.D./ 1797 ई.
159. With reference to the temple of Bhitargaon, Kanpur, Uttar Pradesh, which of the following statement/s is/are correct?
कानपुर, उत्तर प्रदेश स्थित भीतरगाँव मंदिर के संदर्भ में, निम्नलिखित कथनों में से कौन-सा/के कथन सही हैं/है?
(1) This temple was constructed during 5th century A.D. to 6th century A.D./इस मंदिर का निर्माण 5वीं सदी ई. से 6 वीं सदी ई. के मध्य हुआ।
(2) It is one of the oldest brick temples of India.
ईंटों से निर्मित यह भारत के प्राचीनतम मंदिरों में से एक है।
Select the correct answer using the code given below-
नीचे दिए गए कूट का प्रयोग करके सही उत्तर का चयन कीजिए—
(a) Only 1/केवल 1
(b) Only 2/केवल 2
(c) Both 1 and 2/1 और 2
(d) Neither 1 nor 2/न तो 1 ना ही 2
160. In which year "Kisan Samridhi Aayog" was established in Uttar Pradesh?
उत्तर प्रदेश में “किसान समृद्धि आयोग” का गठन किस वर्ष में हुआ था?
(a) 2016 (b) 2017
(c) 2018 (d) 2019
161. When was the State Higher Education council established in U.P./उत्तर प्रदेश में राज्य उच्च शिक्षा परिषद कब स्थापित की गयी थी?
(a) 1990 (b) 1995
(c) 2000 (d) 2005
162. Alha is a popular music from which region?
‘आल्हा’ एक लोकप्रिय संगीत किस क्षेत्र का है?
(a) Ruhelkhand/रूहेलखण्ड
(b) Bundelkhand/बुन्देलखण्ड
(c) Purvanchal/पूर्वांचल
(d) West Uttar Pradesh/पश्चिमी उत्तर प्रदेश
163. Consider the following statements- निम्नलिखित कथनों पर विचार कीजिए-
Statement/कथन (A) : Bhojpuri is the folk language of Eastern Uttar Pradesh./‘भोजपुरी’ पूर्वी उत्तर प्रदेश की लोकभाषा है।
Reason/कारण (R) : People of Eastern Uttar Pradesh are uncomfortable in other languages./पूर्वी उत्तर प्रदेश के लोग अन्य भाषाओं में असहज होते हैं।
Select the correct answer from the code given below- नीचे दिए गए कूट से सही उत्तर चुनिए-
Code/कूट :
(a) (A) and (R) both are correct and (R) is a right clarification of (A)/(A) तथा (R) दोनों सत्य हैं और (A) का सही स्पष्टीकरण (R) है।
(b) Both (A) and (R) are correct, but (R) is not a right clarification of (A)/(A) तथा (R) दोनों सत्य हैं, किन्तु (A) का सही स्पष्टीकरण (R) नहीं है।